

# 國立臺北商業大學附設空中進修學院 112 學年度第一學期末考參考答案

考試科目：二專 516 經濟學(上)

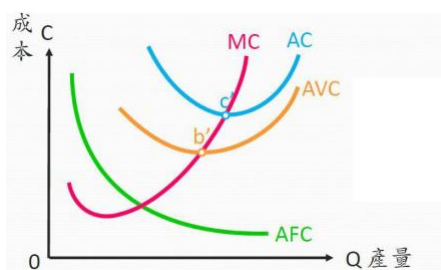
考試日期：112 年 12 月 24 日 節次：3

每題 20 分

一、請說明短期平均成本、短期平均變動成本與邊際成本間的關係，並以圖形說明。

答：

當邊際成本小於平均成本時，平均成本會下降；當邊際成本大於平均成本時，平均成本會上升；同理當邊際成本小於平均變動成本時，平均變動成本會下降；當邊際成本大於平均變動成本時，平均變動成本會上升。由此可知，邊際成本曲線會穿過平均成本曲線與平均變動成本曲線的最低點。

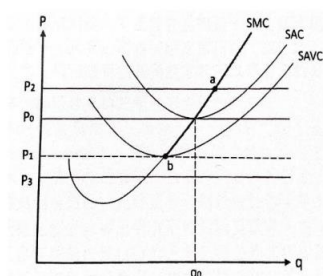


二、請畫圖並說明在短期中，完全競爭廠商的四種可能均衡，個別廠商的短期供給曲線為何？

答：

- (1)  $P > SAC$ ，廠商有正的超額利潤
- (2)  $P = SAC$ ，廠商超額利潤=0
- (3)  $AVC < P < AC$  廠商可回收部分固定成本，雖有虧損但應繼續生產
- (4)  $P < AVC$ ，廠商虧損已經超出固定成本，必須歇業。

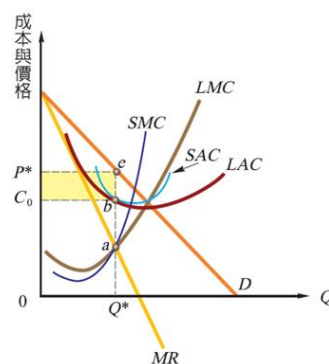
完全競爭市場廠商的短期供給曲線為  $AVC$  最低點以上的  $SMC$  線



三、請繪圖並說明獨占廠商的長期均衡

答：

獨占廠商追求利潤極大，因為廠商擁有定價的能力，所以會選擇在使其會選擇在邊際收益等於邊際成本的數量來進行生產，而在長期下，獨占廠商可獲得超額利潤。



四、試請說明常見的三種差別訂價的內容。

答：

第一級差別訂價又稱為「完全差別訂價」，生產者擁有完全獲知消費者需求與其願意支付的價格的資訊，依照消費者以其願意支付的最高價格來銷售商品，此時消費者剩餘等於零。

第二級差別訂價是指生產者依照消費者不同的購買數量，訂定不同的價格來出售商品的訂價行為。

第三級差別訂價是指獨占廠商針對不同市場的消費者，訂定不同的價格的定價策略。需要價格彈性較大的市場，訂價較低；而需要價格彈性較低的市場，訂價較高。

五、試述何為消費者剩餘？何謂生產者剩餘？

答：

消費者剩餘：消費者對某財貨願意且能夠支付價格與實際支付價格的差距

生產者剩餘：生產者獲取消費者支付財貨價格與其生產該商品邊際成本的差距